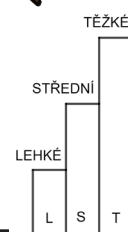

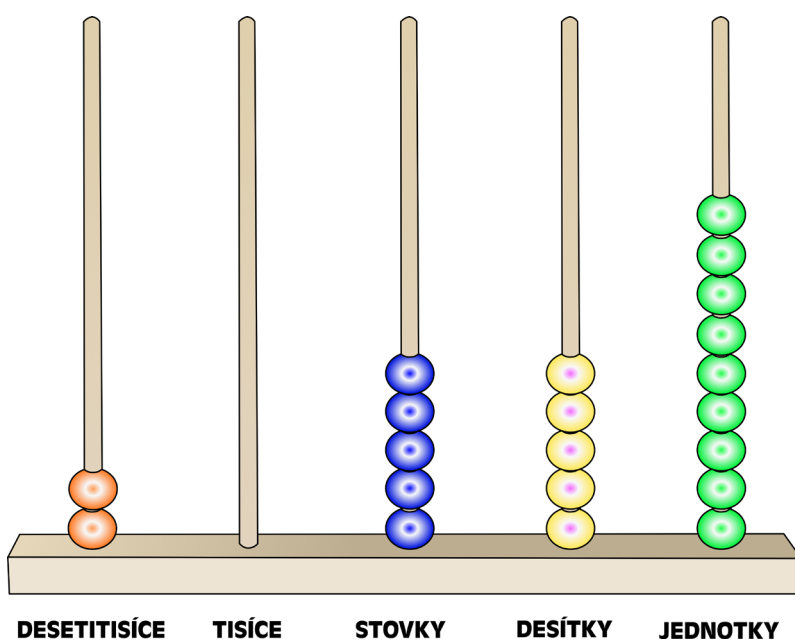
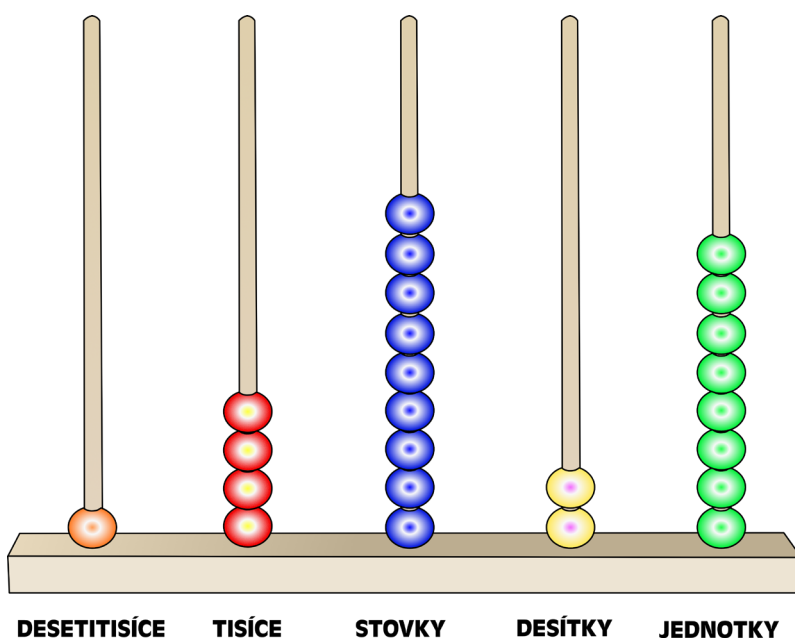




JMÉNO A PŘÍJMENÍ

DATUM

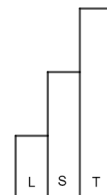
1. ZAPIŠ ČÍSLA, KTERÁ JSOU ZNÁZORNĚNA NA ŘÁDOVÝCH POČÍTADLECH.





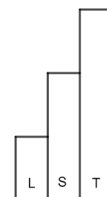
2. MYSLÍM SI ČÍSLO, KTERÉ MÁ 1 TISÍC, 5 STOVEK, 0 DESÍTEK A 0 JEDNOTEK. ZAKROUŽKUJ ČÍSLO, KTERÉ SI MYSLÍM.

150 15 1 050
1 500 15 000



3. MYSLÍM SI ČÍSLO, KTERÉ MÁ 4 DESÍTKY, O 3 VÍCE JEDNOTEK NEŽ DESÍTEK A STOVEK MÁ O 2 MÉNĚ NEŽ JEDNOTEK. ZAKROUŽKUJ ČÍSLO, KTERÉ SI MYSLÍM.

547 432 475
523 243



4. DO TEXTU DOPLŇ ČÍSLA Z NABÍDKY.

NARODILA JSEM SE V NEDĚLI.

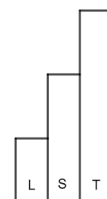
V ÚTERÝ JSEM UŽ MĚLA ZA SEBOU _____ SEKUND ŽIVOTA.

PO JEDNOM TÝDNU ŽIVOTA JSEM PROŽILA UŽ _____ SEKUND.

ZA DALŠÍ TŘI DNY UŽ MI BYLO DESET DNÍ, A TO BYLO _____ SEKUND.

PO MĚSÍCI SE RODIČE RADOVALI, ŽE MĚ MAJÍ UŽ _____ SEKUND.

NABÍDKA: 172 800 2 592 000 604 800 864 000





5. ŘÍMANÉ ZAPISOVALI ČÍSLA JINÝM ZPŮSOBEM. NAPŘÍKLAD ČÍSLO 40 ZAPSALI XL A ČÍSLO 45 ZAPSALI XLV. ZKUS JE PŘEPSAT TAK, JAK JE ZAPISUJEME MY.

XII _____

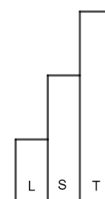
IV _____

DCC _____

MCL _____



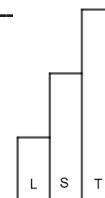
LXIX _____

MDIV _____



6. ODHADNI: KOLIK DNÍ TRVÁ JEDEN ROK? _____
VYPOČÍTEJ: ZAPIŠ SI NEJVĚŠTÍ TROJCIFERNÉ ČÍSLO. OD NĚJ ODEČTI ČÍSLO, KTERÉ MÁ 6 STOVEK, 3 DESÍTKY A 4 JEDNOTKY.

VYŠLO _____



JAK SE TI TENTO PRACOVNÍ LIST LÍBIL?





PRACOVNÍ LIST 15, VARIANTA 3: ŘEŠENÍ

- 14 928
20 559
- 1 500
- 547
- V ÚTERÝ JSEM UŽ MĚLA ZA SEBOU **172 800** SEKUND ŽIVOTA.
PO JEDNOM TÝDNU ŽIVOTA JSEM PROŽILA UŽ **604 800** SEKUND.
ZA DALŠÍ TŘI DNY UŽ MI BYLO DESET DNÍ, A TO BYLO **864 000** SEKUND.
PO MĚSÍCI SE RODIČE RADOVALI, ŽE MĚ MAJÍ UŽ **2 592 000** SEKUND.
- XII **12** IV **4**

DCC **700** MCL **1 150**

LXIX **69** MDIV **1 504**
- 365 DNÍ