



JMÉNO A PŘÍJMENÍ

DATUM


1. PŘIŘAĎ K OBRÁZKŮM SPRÁVNÝ NÁZEV.

ČTVEREC



TROJÚHELNÍK

KOSODÉLNÍK



OBDÉLNÍK

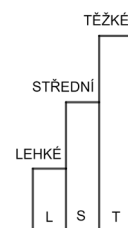
KRUH



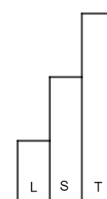
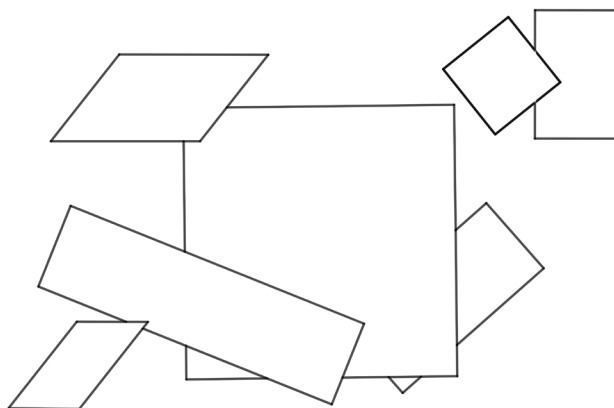

KOSOČTVEREC

ŠESTIÚHELNÍK

LICHOBĚŽNÍK



2. NA OBRÁZKU JSOU RŮZNÉ GEOMETRICKÉ ÚTVARY, NĚKTERÉ LEŽÍ PŘES SEBE. VYBARVI ČTVERCE ČERVENĚ, OBDÉLNÍKY MODŘE A KOSODÉLNÍKY ŽLUTĚ.





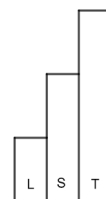
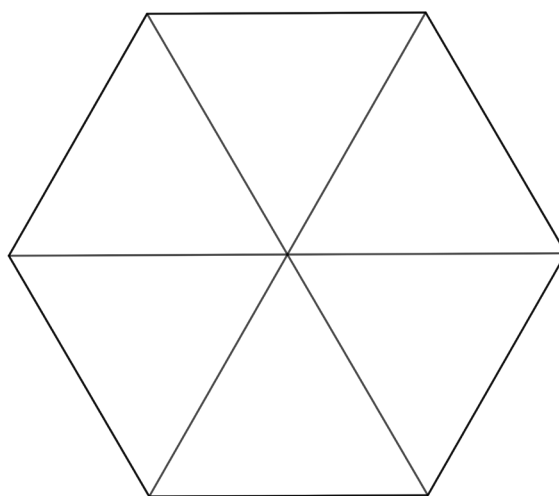
3. KOLIK JE NA OBRÁZKU:

OBDÉLNÍKŮ

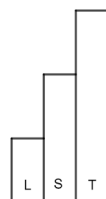
ČTVERCŮ

KOSOČTVERCŮ

LICHOBĚŽNÍKŮ

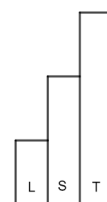


4. SPOJ HVĚZDIČKY TAK, ABY VZNIKLA ČTYŘI SOUHVĚZDÍ TROJÚHELNÍKU.
VYUŽIJ VŠECHNY HVĚZDIČKY.



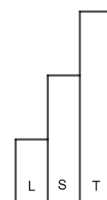


5. SPOJ HVĚZDIČKY TAK, ABY VZNIKLA DVĚ SOUHVĚZDÍ ČTVERCE A SOUHVĚZDÍ TROJÚHELNÍKU. VYUŽIJ VŠECHNY HVĚZDIČKY.



6. HANKA SI VYTVOŘILA OBRAZ. POKLÁDALA NA SEBE SAMÉ OBDÉLNÍKY. KOLIK OBDÉLNÍKŮ POUŽILA?

HANKA POUŽILA _____ OBDÉLNÍKŮ.



JAK SE TI TENTO PRACOVNÍ LIST LÍBIL?

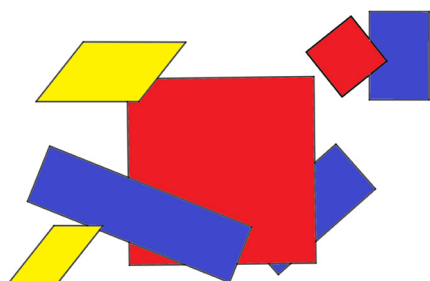




PRACOVNÍ LIST 3, VARIANTA 3: ŘEŠENÍ

1. RŮŽOVÝ TROJÚHELNÍK, ČERVENÝ ČTVEREC, FIALOVÝ OBDÉLNÍK, ŽLUTÝ KOSODÉLNÍK, ŠEDÝ KOSOČTVEREC, MODRÝ KRUH, ZELENÝ LICHOBĚŽNÍK, HNĚDÝ ŠESTIÚHELNÍK

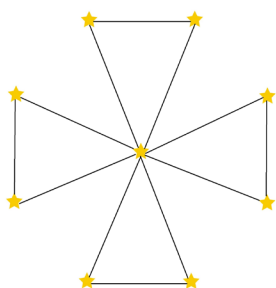
2.



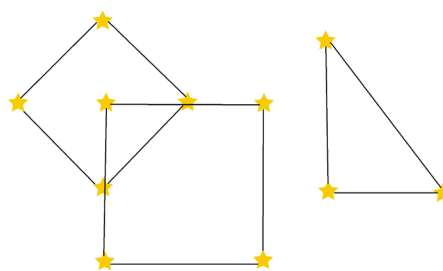
3.

OBDÉLNÍKŮ	0
ČTVERCŮ	0
KOCOČTVERCŮ	6
LICHOBĚŽNÍKŮ	4

4.



5.



6. NA OBRAZE JE VIDĚT 6 AŽ 8 OBDÉLNÍKŮ, ZÁLEŽÍ NA TOM, ZDA POVAŽUJEME NEJVĚTŠÍ (PODKLADOVÝ) OBDÉLNÍK ZA JEDEN CELEK, NEBO ZA TŘI MENŠÍ OBDÉLNÍKY.