




JMÉNO A PŘÍJMENÍ

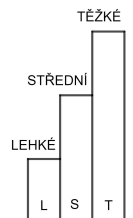
DATUM



1. ALEŠ MÁ 650 KČ. CHCE SI KOUPIIT SOUBOR KOUZEL TRIKY A MAGIE ZA 1 000 KČ. KOLIK KČ MU CHYBÍ?

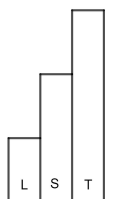


ALEŠOVI CHYBÍ _____ KČ.



2. ZINA SI ŠETŘÍ NA STAVEBNICI LEGO. KAŽDÝ MĚSÍC SI ULOŽÍ 120 KČ. KOLIK KČ MÁ ZA PŮL ROKU?

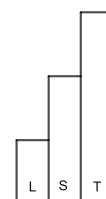
ZA PŮL ROKU MÁ ZINA UŠETŘENO _____ KČ.





3. MATOUŠ MÁ V POKLADNIČCE BANKOVKY A MINCE:
STOKORUNU, TISÍCIKORUNU, DVANÁCT PADESÁTIKORUN A PĚT
DVACETIKORUN. KOLIK KČ MÁ MAREK V POKLADNIČCE?

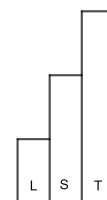

MATOUŠ MÁ V POKLADNIČCE _____ KČ.



4. KAŽDÝ MĚSÍC PLATÍME POPLATKY: ELEKTRICKÁ ENERGIE 450 KČ, PLYN 230 KČ,
TELEFON 520 KČ. POPLATEK ZA ROZHLAS A TELEVIZI ČINÍ DOHROMADY 180 KČ.
JE TO VÍCE NEŽ 1 500 KČ?

VYBER SPRÁVNOU ODPOVĚĎ:

- A) JE TO MÉNĚ NEŽ 1 500 KČ.
B) JE TO VÍCE NEŽ 1 500 KČ.
C) JE TO 1 500 KČ.



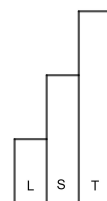


5. HELENKA DOSTÁVÁ KAPESNÉ KAŽDÝ MĚSÍC **150 KČ**.
110 KČ UTRATÍ A ZBYTEK SI UŠETŘÍ. KOLIK SI ZA MĚSÍC UŠETŘÍ?

JEJÍ STARŠÍ SESTRA IVA DOSTÁVÁ KAŽDÝ MĚSÍC KAPESNÉ **400 KČ**.
UŠETŘÍ KAŽDÝ MĚSÍC **90 KČ**. KOLIK KORUN IVA UTRATÍ ZA MĚSÍC?
O KOLIK KČ UŠETŘÍ VÍCE IVA NEŽ HELENKA?



HELENKA ZA MĚSÍC UŠETŘÍ _____ KČ.
IVA ZA MĚSÍC UTRATÍ _____ KČ.
IVA UŠETŘÍ O _____ KČ VÍCE NEŽ HELENKA.

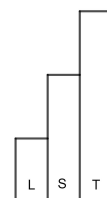


6. PAVEL MĚL TYTO MINCE, KAŽDOU JEN JEDNOU:



ZAKROUŽKUJ ČÁSTKY, KTERÉ POUZE POMOCÍ TĚCHTO MINCÍ NEMOHL ZAPLATIT.

1 KČ	2 KČ	3 KČ	4 KČ	5 KČ
6 KČ	7 KČ	8 KČ	9 KČ	10 KČ
11 KČ	12 KČ	13 KČ	14 KČ	15 KČ



JAK SE TI TENTO PRACOVNÍ LIST LÍBIL?





PRACOVNÍ LIST 8, VARIANTA 3: ŘEŠENÍ

1. ALEŠOVI CHYBÍ 350 KČ.
2. ZA PŮL ROKU MÁ ZINA UŠETŘENO 720 KČ.
3. MATOUŠ MÁ V POKLADNIČCE 1800 KČ.
4. JE TO MÉNĚ NEŽ 1 500 KČ, KONKRÉTNĚ O 120 KČ.
5. HELENKA ZA MĚSÍC UŠETŘÍ 40 KČ.
IVA ZA MĚSÍC UTRATÍ 310 KČ.
IVA UŠETŘÍ O 50 KČ VÍCE NEŽ HELENKA.
6. NEMOHL ZAPLATIT ČÁSTKY 4 KČ, 9 KČ, 14 KČ.