



**JMÉNO A PŘÍJMENÍ**

**DATUM**



1. PŘIŘAĎ K OBRÁZKŮM JEJICH NÁZEV:

KRYCHLE

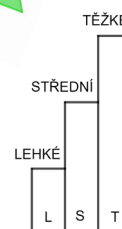



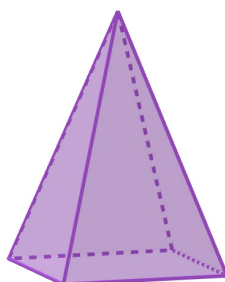
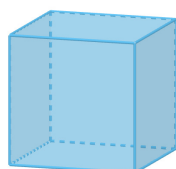
VÁLEC

JEHLAN

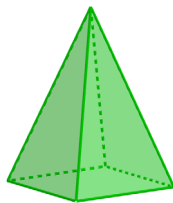

ČTVEREC

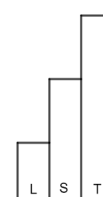
TROJÚHELNÍK

KRUH



2. DOPLŇ TABULKU:

		
NÁZEV TĚLESA		
POČET VRCHOLŮ		
POČET STĚN		
POČET HRAN		

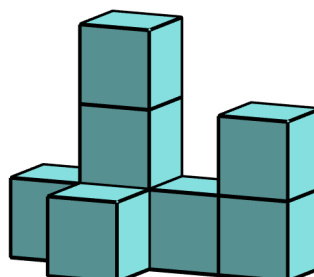




### 3. NA OBRÁZKU VIDÍŠ STAVBU Z KOSTEK.

TOTO JE JEJÍ PLÁN:

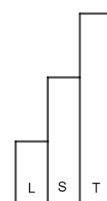


1	3	1	2
	1		



ZE SVÝCH KOSTEK POSTAV STAVBU PODLE PLÁNU.

2	1
1	

PODÍVEJ SE NA NI Z RŮZNÝCH STRAN. STAVBU ZKUS VYFOTOGRAFOVAT TAK, ABY BYLA VIDĚT STEJNĚ JAKO NA FOTOGRAFIÍCH OD FÍ A TAU.

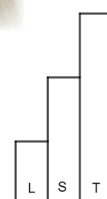







4. HONZA SI TAKÉ POSTAVIL NA ZEM STAVBU PODLE PLÁNU.

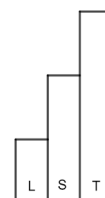
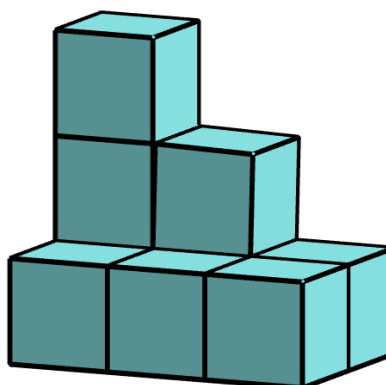
2	1
1	

STAVBU SI NĚKOLIKRÁT VYFOTOGAFOVAL. ZAKROUŽKUJ OBRÁZEK, KTERÝ NEMŮŽE BÝT FOTOGRAFIÍ HONZOVI STAVBY.





5. Z KOLIKA KRYCHLÍ JE POSTAVENA STAVBA NA OBRÁZKU? POČTY KRYCHLÍ ZAPIŠ TAKÉ DO PLÁNKU STAVBY.



STAVBA JE POSTAVENA Z \_\_\_\_\_ KRYCHLÍ.

6. DOPLŇ VĚTY:

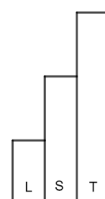

POČET STRAN OBDÉLNÍKU JE \_\_\_\_\_.

KVÁDR MÁ 6 \_\_\_\_\_.

ČTYŘBOKÝ JEHLAN MÁ \_\_\_\_\_ HRAN.

TROJÚHELNÍK MÁ \_\_\_\_\_ STRANY.

KOULE MÁ \_\_\_\_\_ HRAN.

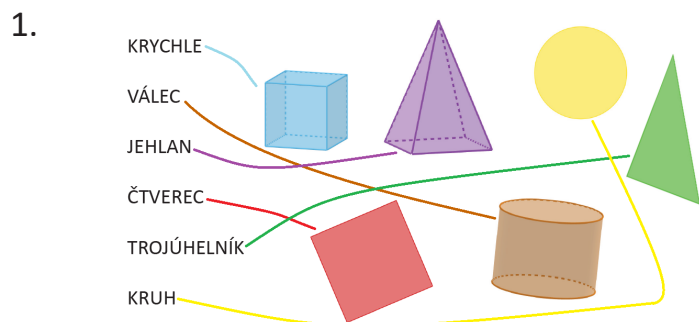


JAK SE TI TENTO PRACOVNÍ LIST LÍBIL?

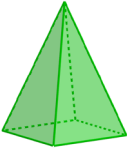
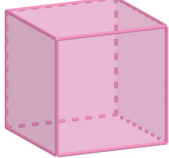





## PRACOVNÍ LIST 11, VARIANTA 2: ŘEŠENÍ



2.

		
NÁZEV TĚLESA	JEHLAN	KRYCHLE
POČET VRCHOLŮ	5	8
POČET STĚN	5	6
POČET HRAN	8	12

3. ŘEŠENÍ JE INDIVIDUÁLNÍ.



5. STAVBA JE POSTAVENA Z 9 KRYCHLÍ.

3	2	1
1	1	1

6. POČET STRAN OBDÉLNÍKU JE 4.  
KVÁDR MÁ 6 STĚN.  
ČTYŘBOKÝ JEHLAN MÁ 8 HRAN.  
TROJÚHELNÍK MÁ 3 STRANY.  
KOULE MÁ 0 HRAN.