



**JMÉNO A PŘÍJMENÍ**

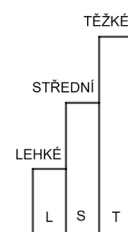
**DATUM**



1. VEZMI SI PASTELKU A V TABULCE VYBARVI VŠECHNY NÁSOBKY ČÍSLA 2 AŽ DO ČÍSLA 40. V TABULCE VZNIKL VZOR. POKRAČUJ VE **STEJNÉM VZORU** I NA DALŠÍCH ŘÁDCÍCH. CO TI VZOR V TABULCE PŘIPOMÍNÁ?

1	2	3	4	5	6	7	8	9	10
11	12	13	14	15	16	17	18	19	20
21	22	23	24	25	26	27	28	29	30
31	32	33	34	35	36	37	38	39	40

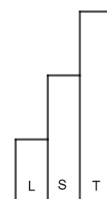

PŘIPOMÍNÁ MI \_\_\_\_\_ .



2. VEZMI SI PASTELKU A V TABULCE VYBARVI VŠECHNY NÁSOBKY ČÍSLA 4 AŽ DO ČÍSLA 60. V TABULCE VZNIKL VZOR. POKRAČUJ VE **STEJNÉM VZORU** I NA DALŠÍCH ŘÁDCÍCH. CO TI VZOR V TABULCE PŘIPOMÍNÁ?

1	2	3	4	5	6	7	8	9	10
11	12	13	14	15	16	17	18	19	20
21	22	23	24	25	26	27	28	29	30
31	32	33	34	35	36	37	38	39	40
41	42	43	44	45	46	47	48	49	50
51	52	53	54	55	56	57	58	59	60

PŘIPOMÍNÁ MI \_\_\_\_\_ .

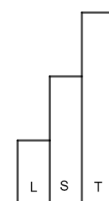





3. VEZMI SI PASTELKU A V TABULCE VYBARVI VŠECHNY NÁSOBKY ČÍSLA 9 AŽ DO ČÍSLA 100. V TABULCE VZNIKL VZOR. POKRAČUJ VE **STEJNÉM VZORU** I NA DALŠÍCH ŘÁDCÍCH. CO TI VZOR V TABULCE PŘIPOMÍNÁ?

1	2	3	4	5	6	7	8	9	10
11	12	13	14	15	16	17	18	19	20
21	22	23	24	25	26	27	28	29	30
31	32	33	34	35	36	37	38	39	40
41	42	43	44	45	46	47	48	49	50
51	52	53	54	55	56	57	58	59	60
61	62	63	64	65	66	67	68	69	70
71	72	73	74	75	76	77	78	79	80
81	82	83	84	85	86	87	88	89	90
91	92	93	94	95	96	97	98	99	100

PŘIPOMÍNÁ MI \_\_\_\_\_ .



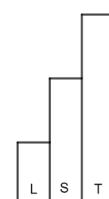
4. ZAPIŠ SI DO JEDNOHO ŘÁDKU NÁSOBKY ČÍSLA 4 VZESTUPNĚ (OD 0 DO 40). DO DRUHÉHO ŘÁDKU SI ZAPIŠ NÁSOBKY ČÍSLA 6 SESTUPNĚ (OD 60 DO 0). OBĚ ŘADY POZORUJ. VIDÍŠ NĚCO ZAJÍMAVÉHO?

---



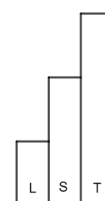
---

ZAJÍMAVOST: \_\_\_\_\_

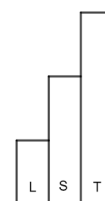




5. NA NAŠEM DOMĚ JE V KAŽDÉM PODLAŽÍ ŠEST OKEN. DŮM MÁ TŘI PODLAŽÍ.  
KOLIK OKEN JE NA NAŠEM DOMĚ?



6. JIRKA KOUPII PRO SVÉ ČTYŘI KAMARÁDY STEJNÁ LÍZÁTKA. KAŽDÉMU  
KOUPII DVĚ. JEDNO LÍZÁTKO STÁLO 6 KORUN. KOLIK KORUN JIRKA ZA  
LÍZÁTKA ZAPLATIL?



JAK SE TI TENTO PRACOVNÍ LIST LÍBIL?





## PRACOVNÍ LIST 4, VARIANTA 2: ŘEŠENÍ

1.

1	2	3	4	5	6	7	8	9	10
11	12	13	14	15	16	17	18	19	20
21	22	23	24	25	26	27	28	29	30
31	32	33	34	35	36	37	38	39	40

3.

1	2	3	4	5	6	7	8	9	10
11	12	13	14	15	16	17	18	19	20
21	22	23	24	25	26	27	28	29	30
31	32	33	34	35	36	37	38	39	40
41	42	43	44	45	46	47	48	49	50
51	52	53	54	55	56	57	58	59	60
61	62	63	64	65	66	67	68	69	70
71	72	73	74	75	76	77	78	79	80
81	82	83	84	85	86	87	88	89	90
91	92	93	94	95	96	97	98	99	100

2.

1	2	3	4	5	6	7	8	9	10
11	12	13	14	15	16	17	18	19	20
21	22	23	24	25	26	27	28	29	30
31	32	33	34	35	36	37	38	39	40
41	42	43	44	45	46	47	48	49	50
51	52	53	54	55	56	57	58	59	60

4.

0	4	8	12	16	20	24	28	32	36	40
60	54	48	42	36	30	24	18	12	6	0

ČÍSLA NAPSANÁ NA MÍSTĚ JEDNOTEK JSOU PRO DANÁ POŘADÍ NÁSOBKŮ STEJNÁ.

5. NA DOMĚ JE 18 OKEN.

6. JIRKA ZAPLATIL ZA LÍZÁTKA 48 KORUN.