



JMÉNO A PŘÍJMENÍ

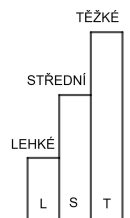
DATUM

1. KTERÁ ČÍSLA V ŘADĚ NÁSOBKŮ CHYBÍ?


- A) 6 9 ___ 15 18
B) 5 10 ___ 20 25 30

VYBER:

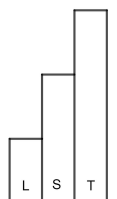
- A) 13 12 14
B) 12 14 15



2. V NAŠÍ TŘÍDĚ SEDÍ ŽÁCI V LAVICÍCH PO DVOU. LAVIC JE 9 A NA KAŽDÉ ŽIDLÍ SEDÍ JEDEN ŽÁK. KOLIK JE VŠECH ŽÁKŮ?



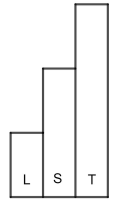

VYBER: 16 18 20





3. JITCE JE 9 ROKŮ, JEJÍ MAMINKA JE ČTYŘIKRÁT STARŠÍ. KOLIK ROKŮ JE MAMINCE?

VYBER: 29 30 36



4. DOPLŇ DO ČTVERCE ČÍSLA.
SOUČTY VE VŠECH ŘÁDCÍCH BUDOU 60.
SOUČTY VE VŠECH SLOUPCÍCH BUDOU TAKÉ 60.
CO MŮŽEŠ O ČÍSLECH VE ČTVERCI ŘÍCI?

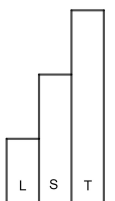
VYBER:

0 4 8 12

16 20 24 28

32 36 40

8		
	20	12
	4	



5. DO STEJNÝCH OBRÁZKŮ ZAPIŠ STEJNÁ ČÍSLA. VYBER ČÍSLA TAK, ABY PLATILO:

$$\bigcirc \cdot \square = 6$$

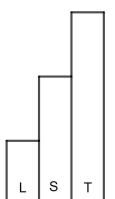
$$\bigcirc \cdot \heartsuit = 16$$

$$\bigcirc \cdot \triangle = 10$$

$$\bigcirc \cdot \cup = 8$$



DOPLŇ ČÍSLA DO OBRÁZKŮ: 2, 3, 4, 5, 6, 8





6. KOLIK KORUN ZAPLATÍ DĚTI ZA NÁKUP?



PETR



VYBER: 24 28 32

IVA

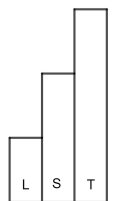


VYBER: 16 21 18

JANA



VYBER: 25 27 23



JAK SE TI TENTO PRACOVNÍ LIST LÍBIL?





PRACOVNÍ LIST 4, VARIANTA 1: ŘEŠENÍ

1. A) chybí 12
B) chybí 15

2. 18

3. 36

4. 8 36 16

VŠECHNA ČÍSLA JSOU NÁSOBKY ČÍSLA ČTYŘI.

28 20 12

24 4 32

5.     

6. PETR ZAPLATÍ 28 KORUN.
IVA ZAPLATÍ 18 KORUN.
JANA ZAPLATÍ 25 KORUN.