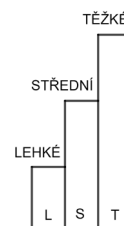
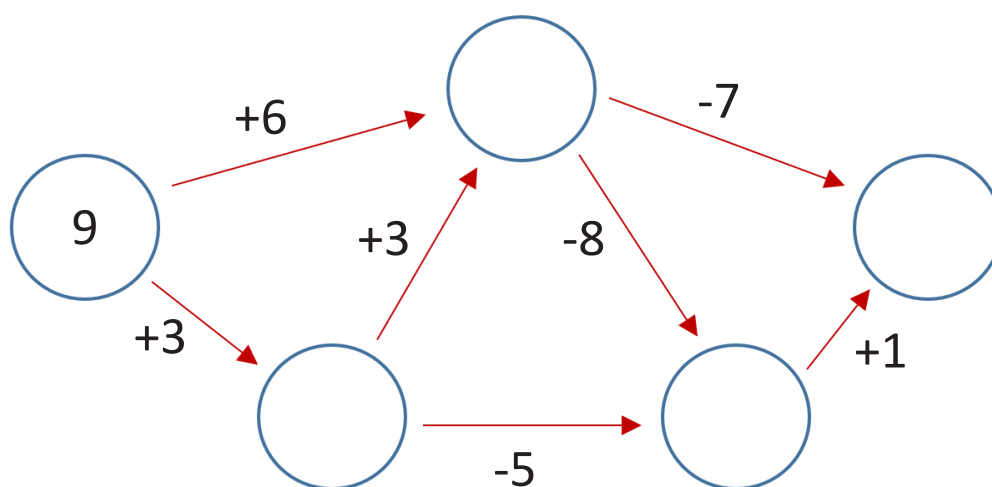




JMÉNO A PŘÍJMENÍ

DATUM

1. POSTUPUJ PODLE ŠIPEK V GRAFU A DOPLŇ ČÍSLA DO KROUŽKŮ.



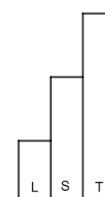
2. MÍSTO TVARŮ ZAPIŠ ČÍSLA TAK, ABY STEJNÉ TVARY PŘEDSTAVOVALY STEJNÁ ČÍSLA.

$$\bigcirc + \bigcirc + \bigcirc = 6$$

$$\square + \square + \bigcirc = 12$$

$$\triangle + \triangle + \bigcirc = 8$$

$$\triangle + \square + \bigcirc = \text{pentagon}$$






EVROPSKÁ UNIE
Evropské strukturální a investiční fondy
Operační program Výzkum, vývoj a vzdělávání



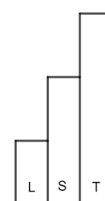
P16 V1

Téma: Rozšířená
realita

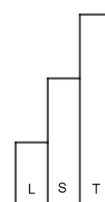
3. V ŘADĚ JDOU HUSY JEDNA ZA DRUHOU. KOLIK JICH JE?



4. KOUZELNICE MATÝNKA ZLOMILA SVOU KOUZELNICKOU HŮLKU NA DVĚ ČÁSTI. JEDNA ČÁST JE O 8 CENTIMETRŮ DELŠÍ NEŽ DRUHÁ. CELÁ HŮLKA MĚŘILA 36 CENTIMETRŮ. KOLIK MĚŘÍ JEDNOTLIVÉ ČÁSTI HŮLKY?




5. SAM MÁ 15 AUTÍČEK, DAN MÁ 9 AUTÍČEK. KOLIK AUTÍČEK MUSÍ DÁT SAM DANOVÍ, ABY MĚLI STEJNĚ?





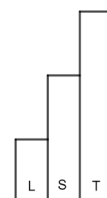
6. V ZOO JSOU 4 ZVÍŘATA: SLON, HROCH, ZUBR A ORANGUTAN.
MAJÍ 4 JMÉNA: BONDY, DIGI, HERODES A SAMUEL.
MAJÍ RÁDI 4 DRUHY POTRAVY: OVOCE, VODNÍ ROSTLINY, TRÁVU A VĚTVE.

SAMUEL MÁ RÁD TRÁVU.
ORANGUTAN SE JMENUJE DIGI.



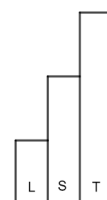
DOPLŇ TABULKU:

ZVÍŘE	JMÉNO	POTRAVA
SLON		TRÁVA
HROCH	HERODES	VODNÍ ROSTLINY
ZUBR		VĚTVE
ORANGUTAN	DIGI	



7. MÍSTO PÍSMEN NAPIŠ ČÍSLICE, STEJNÁ PÍSMENA VYMĚŇ VŽDY ZA STEJNÉ ČÍSLICE. ZKUS NAJÍT VÍC ŘEŠENÍ.

$$AA + AA = BB$$





8. MATÝNKA S TONÍKEM SI DÁVAJÍ HÁDANKY, VE KTERÝCH POUŽILI TATO SLOVA: **DNES, ZÍTRA, POZÍTRÍ, VČERA, PŘEDEVČÍREM.**


PONDĚLÍ - ÚTERÝ - STŘEDA - ČTVRTEK - PÁTEK - SOBOTA - NEDĚLE

TONÍK SE PTÁ MATÝNKY:

VČERA BYLA NEDĚLE. KTERÝ DEN BUDE POZÍTRÍ?

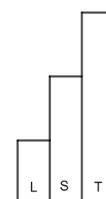
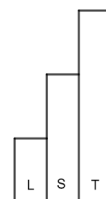

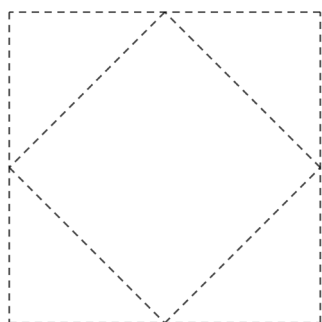
MATÝNKA SE PTÁ TONÍKA:

ZÍTRA BUDE ÚTERÝ. KTERÝ DEN BYL PŘEDEVČÍREM?



KTERÝ DEN V TÝDNU SI TAKTO HRÁLI? VYMYSLI PODOBNOU HÁDANKU PRO SVOJE RODIČE.

9. NAKRESLI OBRÁZEK POUZE JEDNÍM TAHEM.



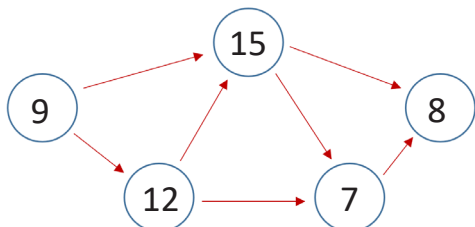
JAK SE TI TENTO PRACOVNÍ LIST LÍBIL?





PRACOVNÍ LIST 16, VARIANTA 1: ŘEŠENÍ

1.



2.



3. HUSY JSOU TŘI.

4. ČÁSTI HŮLKY MĚŘÍ 14
A 22 CENTIMETRŮ.

5. SAM MUSÍ DÁT DANOVÍ
TŘI AUTÍČKA.

6.

ZVÍŘE	JMÉNO	POTRAVA
SLON	SAMUEL	TRÁVA
HROCH	HERODES	VODNÍ ROSTLINY
ZUBR	BONDY	VĚTVE
ORANGUTAN	DIGI	OVOCE

7. MOŽNÁ ŘEŠENÍ:

$$11+11=22$$

$$22+22=44$$

$$33+33=66$$

$$44+44=88$$

8. HRÁLI SI V PONDĚLÍ.

9. MOŽNÉ ŘEŠENÍ (OD NEJTMAVŠÍ
BARVY PO NEJSVĚTLEJŠÍ):

