



JMÉNO A PŘÍJMENÍ

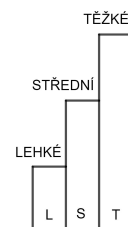
DATUM

1. ROZMĚŇ TŘEMI ZPŮSOBY PĚTIKORUNU. JAKÉ MINCE POUŽIJEŠ?

ŘEŠENÍ: _____

ŘEŠENÍ: _____

ŘEŠENÍ: _____

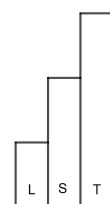


2. ROZMĚŇ TŘEMI ZPŮSOBY DESETIKORUNU POMOCÍ STEJNÝCH MINCÍ. JAKÉ MINCE POUŽIJEŠ?

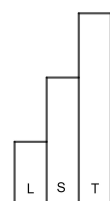
ŘEŠENÍ: _____

ŘEŠENÍ: _____

ŘEŠENÍ: _____



3. MÁŠ KAŽDOU MINCI PRÁVĚ JEDNOU. KOLIK MÁŠ KORUN?





4. ZAPIŠ JEDNOTLIVÉ PŘÍKLADY.

VZOR:

$$10 + 2 = 5 + 5 + 1 + 1$$


$$10 + 5 + 2 + 1 = \bigcirc + \bigcirc + \bigcirc + \bigcirc$$

$$5 + 5 + 2 + 2 + 1 = \bigcirc + \bigcirc + \bigcirc$$

$$10 + 2 + 2 + 2 + 1 = \bigcirc + \bigcirc + \bigcirc + \bigcirc + \bigcirc$$



5. KAŽDÉ Z DĚTÍ SI KOUPI JEDNU VĚC.
CO SI MOHOU DĚTI KOUPIŤ?



ANDY MÁ:



ANDY SI KOUPI:

BĚTKA MÁ:

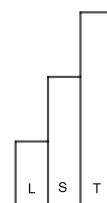


BĚTKA SI KOUPI:

EMA MÁ:



EMA SI KOUPI:



JAK SE TI TENTO PRACOVNÍ LIST LÍBIL?





EVROPSKÁ UNIE
Evropské strukturální a investiční fondy
Operační program Výzkum, vývoj a vzdělávání



P8 V1

Téma:
Mince a bankovky

PRACOVNÍ LIST 8, VARIANTA 1: ŘEŠENÍ

1. $5 = 2 + 2 + 1$

$$5 = 2 + 1 + 1 + 1$$

$$5 = 1 + 1 + 1 + 1 + 1$$

2. $10 = 5 + 5$

$$10 = 2 + 2 + 2 + 2 + 2$$

$$10 = 1 + 1 + 1 + 1 + 1 + 1 + 1 + 1 + 1 + 1$$

3. $50 + 20 + 10 + 5 + 2 + 1 = 88$

4. $10 + 2 = 5 + 5 + 1 + 1$

$$10 + 5 + 2 + 1 = 5 + 5 + 5 + 1 + 1 + 1$$

$$5 + 5 + 2 + 2 + 1 = 10 + 5$$

$$10 + 2 + 2 + 2 + 2 + 1 = 5 + 5 + 5 + 2 + 2$$

5.	ANDY	25 Kč	TROJÚHELNÍK
	BĚTKA	30 Kč	PASTELKY
	EMA	15 Kč	PRAVÍTKO