



JMÉNO A PŘÍJMENÍ

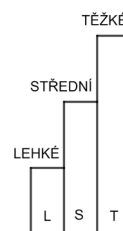
DATUM

V KAŽDÉ ÚLOZE TI VYJDE KOUSEK TAJENKY.

1. VYLUŠTI TŘI SLOVA

MĚSÍC JE CHLAD Á K MENNÁ KOULE, KTERÁ OBÍHÁ KOLEM ZEMĚ. ĚSÍC JE PŘIROZENOU DRUŽICÍ ZEMĚ, NA ROZDÍL OD DRUŽIC UMĚLÝCH, KTERÉ NA OBĚŽNOU DRÁHU AMI VYPOUŠTĚME. NA MĚSÍCI MŮŽETE VIDĚT TMAVÉ SKVRNY, KTERÉ BYLY DŘÍVE POVAŽOVÁNY ZA MĚSÍČNÍ MOŘE. JEDENKRÁT ZA MĚSÍC MŮŽEME VIDĚT MĚSÍC V ÚPĚNKU.

TAJENKA: _____



2. DOPLŇ KŘÍŽOVKU

$430 + 70$



$333 - 133$

$2 \cdot 8$

$125 + 875$

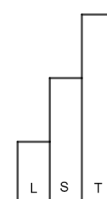

$2 \cdot 20$

$\frac{1}{3}, \frac{1}{2}, \frac{3}{4}$

60 MINUT

$3 \cdot 4$

$40 : 8$







3. V OBRÁZCÍCH JE UKRYTO JMÉNO, NAJDI HO.




8



2



2




1




3




1



3



2

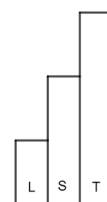


4



3

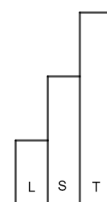
TAJENKA: _____



4. DOPLŇ DO TAJENKY VÝSLEDEK PŘÍKLADU.

2 000 - 31

TAJENKA: BYLO TO V ROCE _____.





5. Z KARTIČEK UTVOŘ SOUVĚTÍ A ZAPIŠ HO.

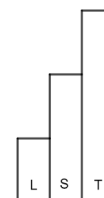
PRO LIDSTVO.

JE TO MALÝ KROK

PRO ČLOVĚKA,

ALE VELKÝ KROK

TAJENKA: _____



NAKONEC ZAPIŠ VŠECHNY TAJENKY Z ÚLOH 1, 2, 3 A 4 ZA SEBOU VE SPRÁVNÉM POŘADÍ:

SEM NAPIŠ TAJENKU Z ÚLOHY 5:

ŘEKL: _____

JAK SE TI TENTO PRACOVNÍ LIST LÍBIL?



