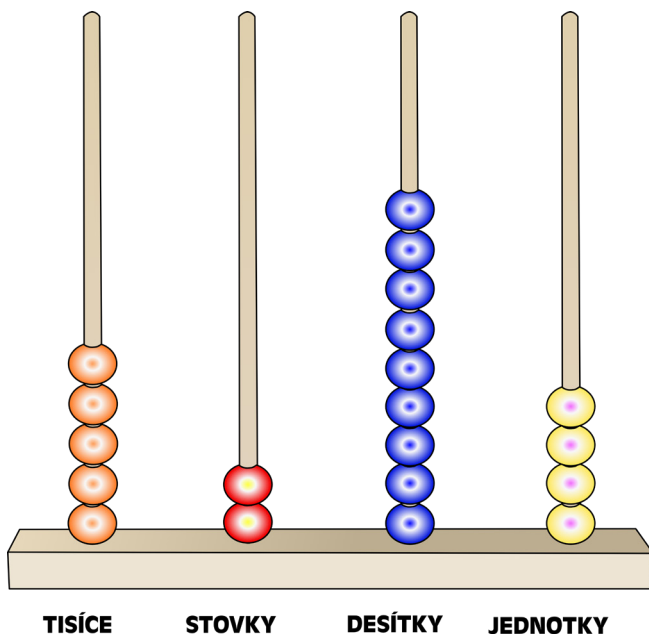


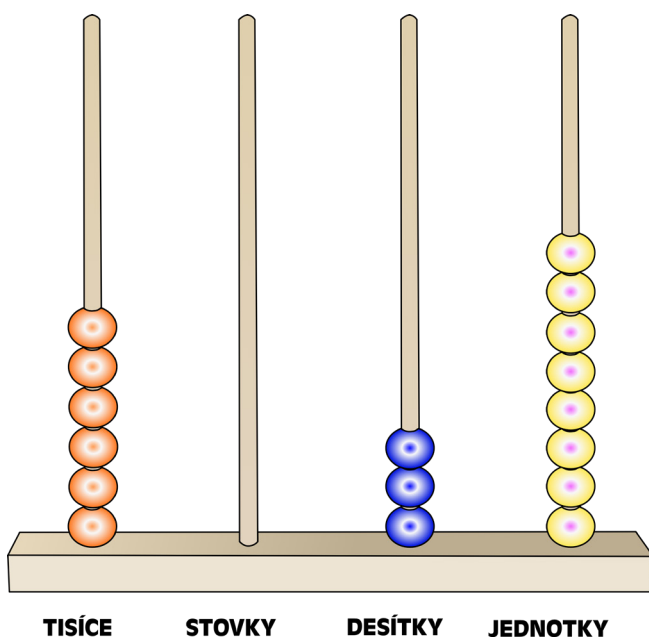


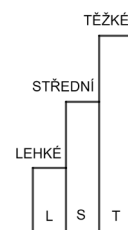
JMÉNO A PŘÍJMENÍ

DATUM

1. ZAPIŠ ČÍSLA, KTERÁ JSOU ZNÁZORNĚNA NA ŘÁDOVÝCH POČÍTADLECH.





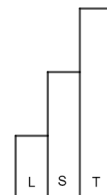




2. MYSLÍM SI ČÍSLO, KTERÉ MÁ 2 TISÍCE, NULA STOVEK, 1 DESÍTKU A 4 JEDNOTKY. ZAKROUŽKUJ ČÍSLO, KTERÉ SI MYSLÍM.

4 102 1 420 2 041

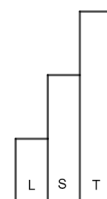
 4 021 2 014




3. MYSLÍM SI ČÍSLO, KTERÉ MÁ 2 DESÍTKY, O 3 VÍCE JEDNOTEK A STOVEK MÁ O 4 VÍCE NEŽ DESÍTEK. ZAKROUŽKUJ ČÍSLO, KTERÉ SI MYSLÍM.

234 625 342

 256 683



4. DO TEXTU DOPLŇ ČÍSLA Z NABÍDKY.



NARODILA JSEM SE V NEDĚLI.

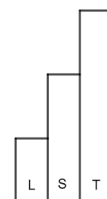
V ÚTERÝ JSEM UŽ MĚLA ZA SEBOU _____ MINUT ŽIVOTA.

PO JEDNOM TÝDNU ŽIVOTA JSEM PROŽILA UŽ _____ MINUT.

ZA DALŠÍ TŘI DNY UŽ MI BYLO DESET DNÍ, A TO BYLO _____ MINUT.

PO MĚSÍCI SE RODIČE RADOVALI, ŽE MĚ MAJÍ UŽ _____ MINUT.

NABÍDKA: 43 200 2 880 14 400 10 080





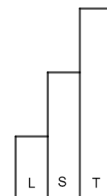
5. ŘÍMANÉ ZAPISOVALI ČÍSLA JINÝM ZPŮSOBEM. ZKUS JE PŘEPSAT TAK, JAK JE ZAPISUJEME MY.

II _____

VI _____


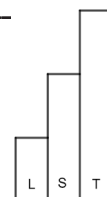
X _____

IX _____



6. ODHADNI: KOLIK DNÍ TRVAJÍ LETNÍ PRÁZDNINY? _____
VYPOČÍTEJ: ZAPIŠ SI NEJVĚTŠÍ DVOJCIFERNÉ ČÍSLO. OD NĚJ ODEČTI ČÍSLO, KTERÉ MÁ 3 DESÍTKY A 7 JEDNOTEK.

VYŠLO _____



JAK SE TI TENTO PRACOVNÍ LIST LÍBIL?





PRACOVNÍ LIST 15, VARIANTA 2: ŘEŠENÍ

1. 5 294
6 038

2. 2 014

3. 625

4. V ÚTERÝ JSEM UŽ MĚLA ZA SEBOU **2 880** MINUT ŽIVOTA.
PO JEDNOM TÝDNU ŽIVOTA JSEM PROŽILA UŽ **10 080** MINUT.
ZA DALŠÍ TŘI DNY UŽ MI BYLO DESET DNÍ, A TO BYLO **14 400** MINUT.
PO MĚSÍCI SE RODIČE RADOVALI, ŽE MĚ MAJÍ UŽ **43 200** MINUT.

5. II **2** VI **6**
X **10** IX **9**

6. 62 DNÍ