



JMÉNO A PŘÍJMENÍ

DATUM

1. NAJDI ZAŠIFROVANÉ NÁZVY ŘEK.

VYPOČÍTEJ PŘÍKLADY. K VÝSLEDKŮM PŘIŘAĎ PÍSMENA Z TABULKY.
ZAPIŠ JE POD PŘÍKLADY. PŘEČTI NÁZEV ŘEKY.

TABULKA:

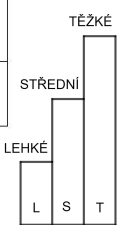

A	B	C	E	I	L	M	N	O	R	T	U	V	Ž
13	14	15	16	17	18	19	20	53	52	51	50	49	48

A)	$32 + 17$	$72 - 54$	$15 + 36$	$81 - 68$	$27 + 22$	$37 - 24$
VÝSLEDEK						
PÍSMENO						

B)	$61 - 43$	$41 - 28$	$65 - 51$	$49 - 33$
VÝSLEDEK				
PÍSMENO				

C)	$38 - 19$	$27 + 26$	$18 + 34$	$44 - 31$	$18 + 31$	$27 - 14$
VÝSLEDEK						
PÍSMENO						

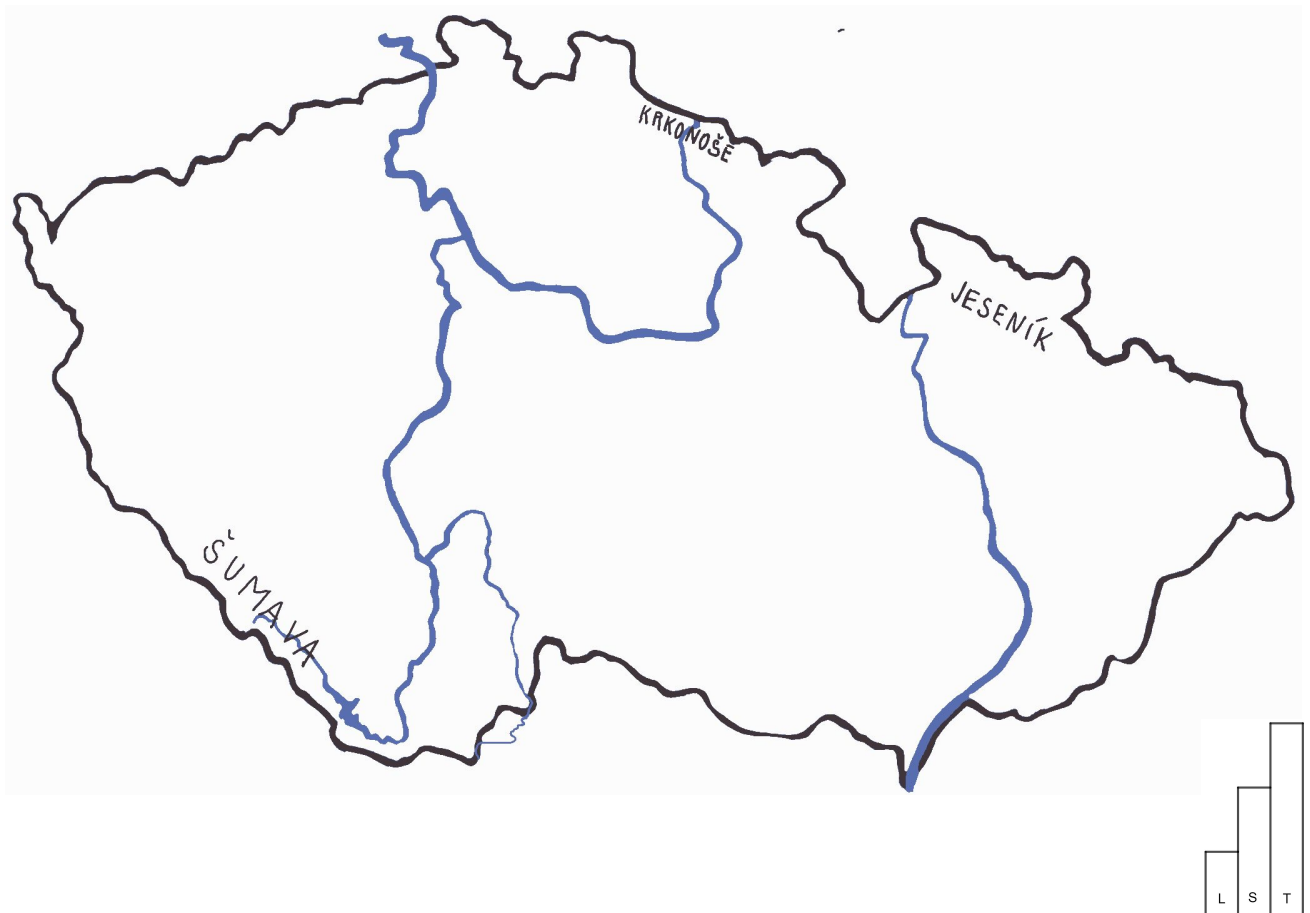
D)	$26 - 8$	$24 + 26$	$39 + 9$	$34 - 14$	$58 - 41$	$27 - 12$	$69 - 53$
VÝSLEDEK							
PÍSMENO							





2. ZAPIŠ NÁZVY ŘEK DO MAPY.

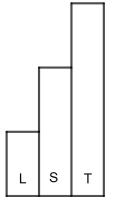
- ŘEKA VLTAVA PRAMENÍ NA ŠUMAVĚ.
- VLTAVA SE VLÉVÁ DO LABE U MĚSTA MĚLNÍK.
- ŘEKA MORAVA SE VLÉVÁ DO DUNAJE.
- ŘEKA LUŽNICE SE VLÉVÁ DO VLTAVY.
- DUNAJ NEPROTÉKÁ ČESKOU REPUBLIKOU.





3. ZAŠIFRUJ POMOCÍ PŘÍKLADŮ NÁZEV NAŠÍ ŘEKY. POUŽIJ ŠIFROVACÍ TABULKU Z PRVNÍ ÚLOHY.

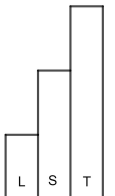
O	T	A	V	A



4. ZNÁŠ NĚJAKOU ŘEKU VE SVÉM OKOLÍ?

KTERÁ Z ŘEK PROTÉKÁ PRAHOU?

KTERÁ ŘEKA PRAMENÍ V KRKONOŠÍCH?



JAK SE TI TENTO PRACOVNÍ LIST LÍBIL?





PRACOVNÍ LIST 1 VARIANTA 2: ŘEŠENÍ

1. A)

49	18	51	13	49	13
V	L	T	A	V	A

B)

18	13	14	16
L	A	B	E

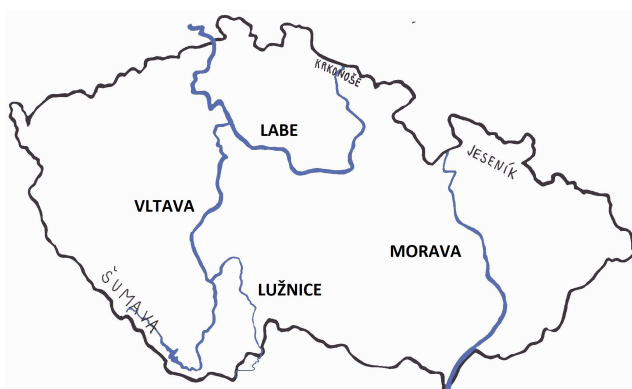
C)

19	53	52	13	49	13
M	O	R	A	V	A

D)

18	50	48	20	17	15	16
L	U	Ž	N	I	C	E

2.



3. PŘÍKLADY TVOŘÍ ŽÁCI INDIVIDUÁLNĚ PRO TYTO VÝSLEDKY.

O	T	A	V	A
53	51	13	49	13

4. PRAHOU PROTĚKÁ VLTAVA A V KRKONOŠÍCH PRAMENÍ LABE.