




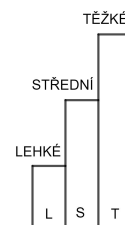
JMÉNO A PŘÍJMENÍ

DATUM



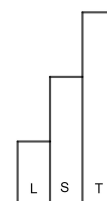
1. ALENKA MÁ 200 KČ. CHCE SI KOUPIP PANENKU ZA 300 KČ.  
KOLIK KČ JÍ CHYBÍ?

ALENCE CHYBÍ \_\_\_\_\_ KČ.



2. ALEŠ SI ŠETŘÍ NA STAVEBNICI LEGO. KAŽDÝ MĚSÍC SI  
ULOŽÍ 100 KČ. KOLIK KČ MÁ ZA PŮL ROKU?

ZA PŮL ROKU MÁ ALEŠ UŠETŘENO \_\_\_\_\_ KČ.

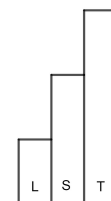




3. MAREK MÁ V POKLADNIČCE BANKOVKY A MINCE:  
STOKORUNU, PĚTISETKORUNU, PADESÁTIKORUNU  
A DVACETIKORUNU. KOLIK KČ MÁ MAREK V POKLADNIČCE?



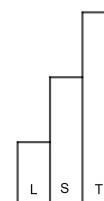
MAREK MÁ V POKLADNIČCE \_\_\_\_\_ KČ.



4. KAŽDÝ MĚSÍC PLATÍME POPLATKY: ELEKTRICKÁ ENERGIE 300 KČ, PLYN 200 KČ,  
TELEFON 500 KČ. POPLATEK ZA ROZHLAS A TELEVIZI ČINÍ DOHROMADY  
180 KČ. JE TO VÍCE NEŽ 1 000 KČ?

VYBER SPRÁVNOU ODPOVĚĎ:

- A) JE TO MÉNĚ NEŽ 1 000 KČ.  
B) JE TO VÍCE NEŽ 1 000 KČ.  
C) JE TO 1 000 KČ.





5. HANKA DOSTÁVÁ KAPESNÉ KAŽDÝ MĚSÍC **200 KČ**.  
**150 KČ** UTRATÍ A ZBYTEK SI UŠETŘÍ. KOLIK SI ZA MĚSÍC UŠETŘÍ?

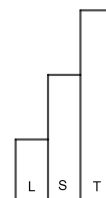
JEJÍ STARŠÍ SESTRA IVA DOSTÁVÁ KAŽDÝ MĚSÍC KAPESNÉ **400 KČ**. UŠETŘÍ  
KAŽDÝ MĚSÍC **80 KČ**. KOLIK KORUN IVA UTRATÍ ZA MĚSÍC? O KOLIK KČ  
UŠETŘÍ VÍCE IVA NEŽ HANKA?



HANKA ZA MĚSÍC UŠETŘÍ \_\_\_\_\_ KČ.

IVA ZA MĚSÍC UTRATÍ \_\_\_\_\_ KČ.

IVA UŠETŘÍ O \_\_\_\_\_ KČ VÍCE NEŽ HANKA.





6. MÁŠ TYTO MINCE, KAŽDOU JEN JEDNOU:

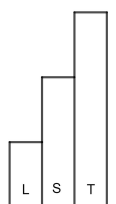


KTERÉ ČÁSTKY POUZE POMOCÍ TĚCHTO MINCÍ MŮŽEŠ ZAPLATIT? KTERÉ ČÁSTKY ZAPLATIT NEMŮŽEŠ?

VYZNAČ ODPOVĚDI DO TABULKY:

ČÁSTKA	VYBER ANO, NE
1 Kč	
2 Kč	
3 Kč	
4 Kč	
5 Kč	
6 Kč	
7 Kč	
8 Kč	
9 Kč	

ČÁSTKA	VYBER ANO, NE
10 Kč	
11 Kč	
12 Kč	
13 Kč	
14 Kč	
15 Kč	
16 Kč	
17 Kč	
18 Kč	



JAK SE TI TENTO PRACOVNÍ LIST LÍBIL?





## PRACOVNÍ LIST 8, VARIANTA 2: ŘEŠENÍ

1. ALENCE CHYBÍ 100 KČ.
2. ZA PŮL ROKU MÁ ALEŠ UŠETŘENO 600 KČ.
3. MAREK MÁ V POKLADNIČCE 670 KČ.
4. JE TO VÍCE NEŽ 1 000 KČ, PŘESNĚ O 180 KČ.
5. HANKA ZA MĚSÍC UŠETŘÍ 50 KČ.  
IVA ZA MĚSÍC UTRATÍ 320 KČ.  
IVA UŠETŘÍ O 30 KČ VÍCE NEŽ HANKA.
6. NEMŮŽEME ZAPLATIT ČÁSTKY 4 KČ, 9 KČ, 14 KČ.