



**JMÉNO A PŘÍJMENÍ**

**DATUM**



1. PŘIŘAĎ K OBRÁZKŮM JEJICH NÁZEV:

KOULE

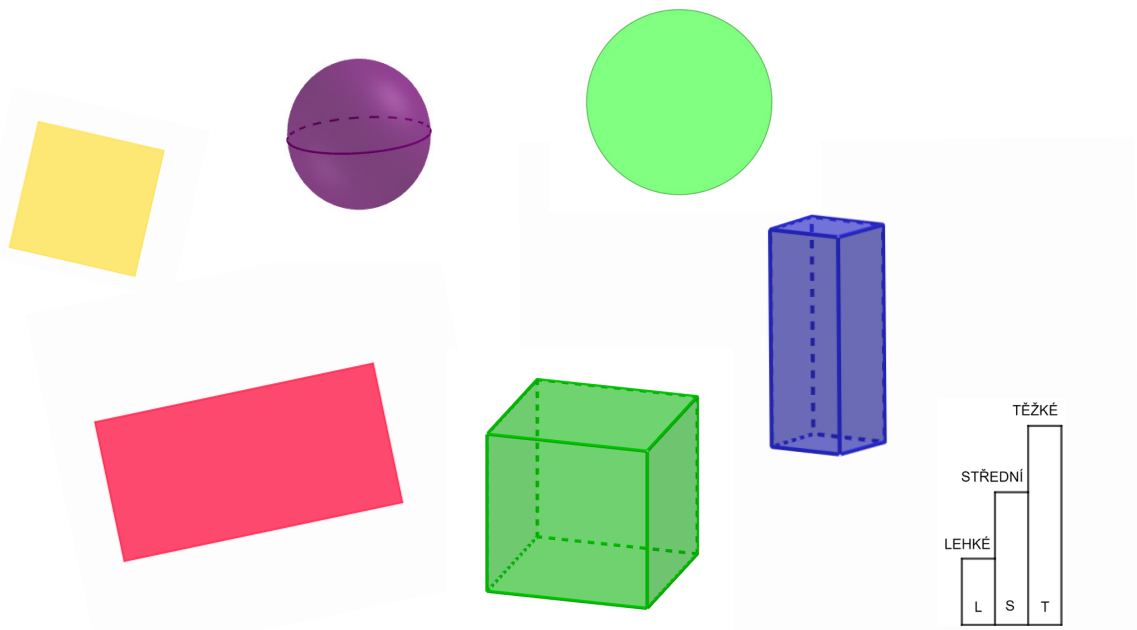
KRUH

KRYCHLE


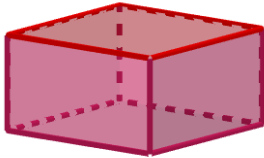
ČTVEREC

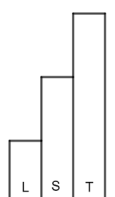
OBDÉLNÍK

KVÁDR



2. DOPLŇ TABULKU:

		
NÁZEV TĚLESA		
POČET VRCHOLŮ		
POČET STĚN		
POČET HRAN		






### 3. NA OBRÁZKU VIDÍŠ STAVBU Z KOSTEK.

TOTO JE JEJÍ PLÁN:

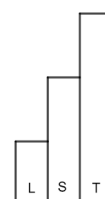



1	3	1	2
---	---	---	---



ZE SVÝCH KOSTEK POSTAV STAVBU PODLE PLÁNU.

2	1
---	---

PODÍVEJ SE NA NI Z RŮZNÝCH STRAN. STAVBU ZKUS VYFOTOGRAFOVAT TAK, ABY BYLA VIDĚT STEJNĚ JAKO NA FOTOGRAFIÍCH OD FÍ A TAU.

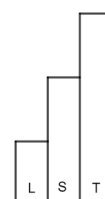






4. PAVEL SI TAKÉ POSTAVIL NA ZEM STAVBU PODLE PLÁNU.

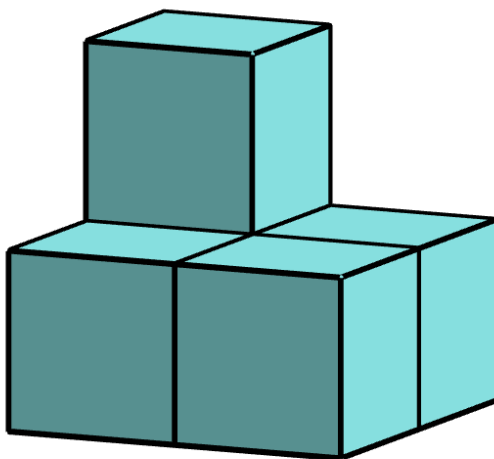
2	1
---	---

STAVBU SI NĚKOLIKRÁT VYFOTOGAFOVAL. ZAKROUŽKUJ OBRÁZEK, KTERÝ NEMŮŽE BÝT FOTOGRAFIÍ PAVLOVY STAVBY.

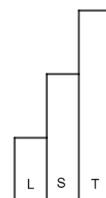




5. Z KOLIKA KRYCHLÍ JE POSTAVENA STAVBA NA OBRÁZKU?



STAVBA JE POSTAVENA Z \_\_\_\_\_ KRYCHLÍ.



6. DOPLŇ VĚTY:

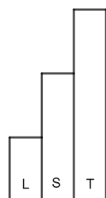

KRYCHLE MÁ \_\_\_\_\_ VRCHOLŮ.

TROJÚHELNÍK MÁ \_\_\_\_\_ STRANY.

ČTVEREC MÁ ČTYŘI \_\_\_\_\_.

KVÁDR MÁ \_\_\_\_\_ STĚN.

OBDÉLNÍK MÁ \_\_\_\_\_ STRANY.

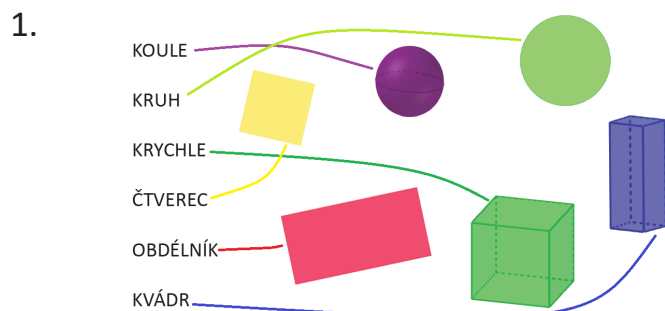


JAK SE TI TENTO PRACOVNÍ LIST LÍBIL?






## PRACOVNÍ LIST 11, VARIANTA 1: ŘEŠENÍ



2.

NÁZEV TĚLESA	KRYCHLE	KVÁDR
POČET VRCHOLŮ	8	8
POČET STĚN	6	6
POČET HRAN	12	12

3. ŘEŠENÍ JE INDIVIDUÁLNÍ.



5. STAVBA JE POSTAVENA Z 5 KRYCHLÍ.

6. KRYCHLE MÁ 8 VRCHOLŮ.  
TROJÚHELNÍK MÁ 3 STRANY.  
ČTVEREC MÁ ČTYŘI STRANY / VRCHOLY.  
KVÁDR MÁ 6 STĚN.  
OBDÉLNÍK MÁ 4 STRANY.