



JMÉNO A PŘÍJMENÍ

DATUM

1. NAJDI ZAŠIFROVANÉ **NÁZVY MĚST.**

VYPOČÍTEJ PŘÍKLADY. K VÝSLEDKŮM PŘIŘAĎ PÍSMENA Z TABULKY.

ZAPIŠ JE POD PŘÍKLADY. PŘEČTI NÁZEV MĚSTA.

TABULKA:

A	B	C	Č	E	H	K	L	M	N	Ň	O	P	R	S	U	Z
13	14	15	4	16	17	11	18	19	20	10	9	8	7	12	6	5

A)	$14 - 6$	$15 - 8$	$8 + 5$	$9 + 8$	$19 - 6$
VÝSLEDEK					
PÍSMENO					

B)	$9 + 5$	$16 - 9$	$8 + 12$	$13 - 4$
VÝSLEDEK				
PÍSMENO				

C)	$17 - 9$	$9 + 9$	$19 - 14$	$7 + 9$	$18 - 8$
VÝSLEDEK					
PÍSMENO					

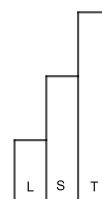

D)	$16 - 7$	$12 + 6$	$13 - 4$	$4 + 15$	$18 - 9$	$17 - 11$	$9 + 6$
VÝSLEDEK							
PÍSMENO							





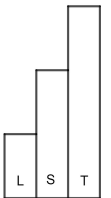

2. KE KAŽDÉMU MĚSTU PŘIŘAĎ OBRÁZEK.

- DRUHÉ NEJVĚTŠÍ MĚSTO ČESKÉ REPUBLIKY JE ZOBRAZENO NA MINCI.
- V OLOMOUCI MAJÍ RADNICI S HISTORICKÝM ORLOJEM.
- NA OBRÁZKU HLAVNÍHO MĚSTA ČESKÉ REPUBLIKY JE MOST.
- KOSTEL V PLZNI MÁ JEN JEDNU HLAVNÍ VĚŽ.
- JEDEN Z BRNĚNSKÝCH KOSTELŮ NAJDEŠ NA JEDNÉ Z ČESKÝCH MINCÍ.



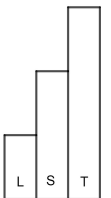


3. DO MAPKY ZKUS VYZNAČIT POLOHU MĚST Z PRVNÍ ÚLOHY.



4. ZAŠIFRUJ POMOCÍ PŘÍKLADŮ NÁZEV NAŠÍ VLASTI. POUŽIJ ŠIFROVACÍ TABULKU Z PRVNÍ ÚLOHY.

Č	E	S	K	O



JAK SE TI TENTO PRACOVNÍ LIST LÍBIL?





PRACOVNÍ LIST 1, VARIANTA 1: ŘEŠENÍ

1. A)

8	7	13	17	13
P	R	A	H	A

B)

14	7	20	9
B	R	N	O

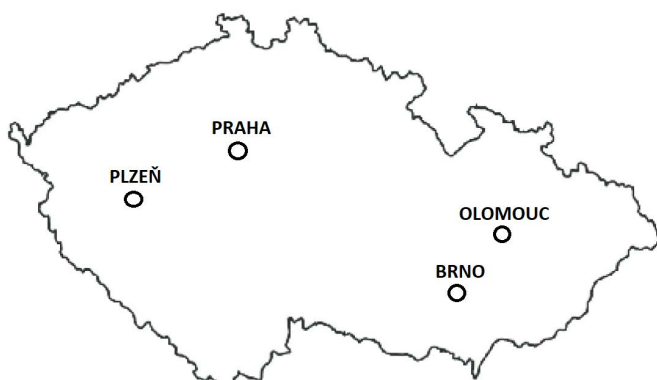
C)

8	18	5	16	10
P	L	Z	E	Ň


D)

9	18	9	19	9	6	15
O	L	O	M	O	U	C

3.



2.



PRAHA



BRNO



PLZEŇ



OLOMOUC

4. PŘÍKLADY TVOŘÍ ŽÁCI INDIVIDUÁLNĚ:

Č	E	S	K	O
4	16	12	11	9